



KOPIERFÄHIGES ARBEITSBLATT

Unterrichtsbeispiel *Klimaschutz, Wirtschaft und wir*

MATERIAL 2

Positionen der Parlamentsparteien: zusätzliche Aufgabe

Arbeitsaufgabe

Du hast bereits festgestellt, dass die fünf im Parlament vertretenen Parteien mehr oder weniger oft ähnliche oder gleiche Positionen („Schnittmengen“) vertreten.

- Ermittle zu den folgenden vier Grafiken die passende Forderung. Schreibe sie als „Schnittmenge“ der genannten Parteien auf die Zeile darunter:
 - Schutz vor Naturkatastrophen
 - Rücksichtnahme auf ärmere Menschen
 - Förderung von umweltfreundlichen Technologien
 - Starke Rücksichtnahme auf die Wirtschaft

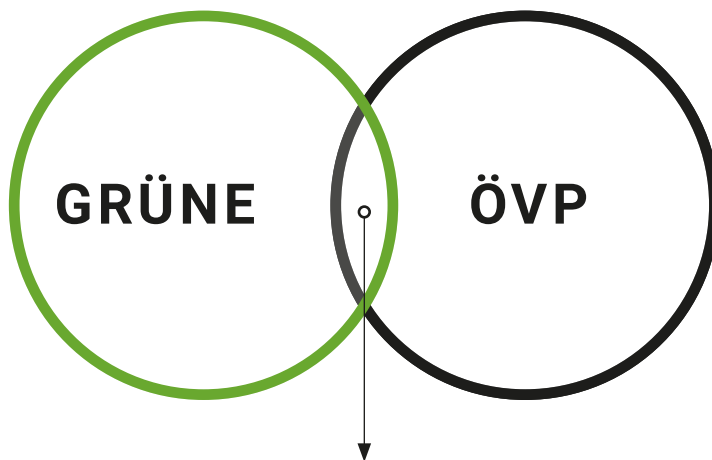
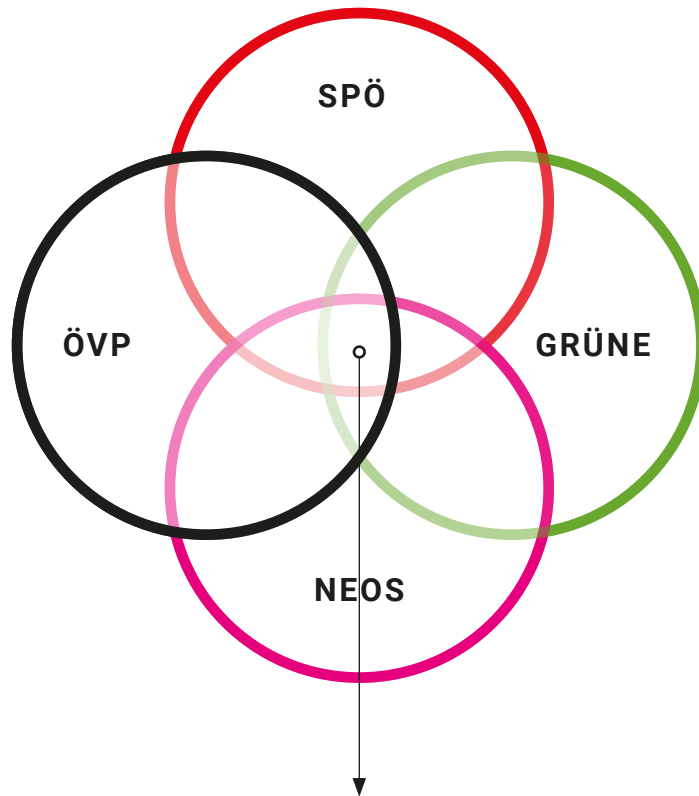
- Arbeite mithilfe der Grafik „Mandatsverteilung im Nationalrat“ heraus, für welche Forderung es eine Mehrheit (mindestens 92 Stimmen dafür) im Nationalrat gäbe.



KOPIERFÄHIGES ARBEITSBLATT
Unterrichtsbeispiel *Klimaschutz, Wirtschaft und wir*

MATERIAL 2

Positionen der Parlamentsparteien: zusätzliche Aufgabe

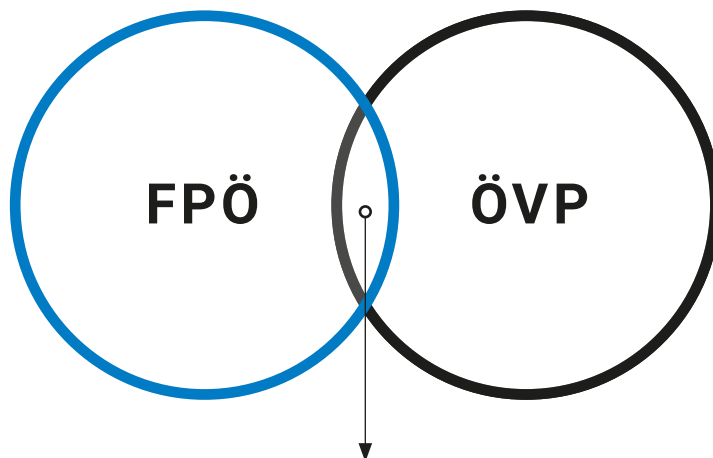
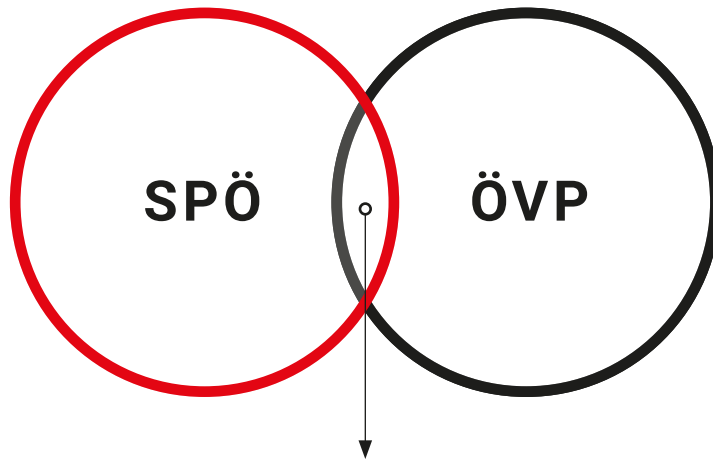




KOPIERFÄHIGES ARBEITSBLATT
Unterrichtsbeispiel *Klimaschutz, Wirtschaft und wir*

MATERIAL 2

Positionen der Parlamentsparteien: zusätzliche Aufgabe





KOPIERFÄHIGES ARBEITSBLATT
Unterrichtsbeispiel *Klimaschutz, Wirtschaft und wir*

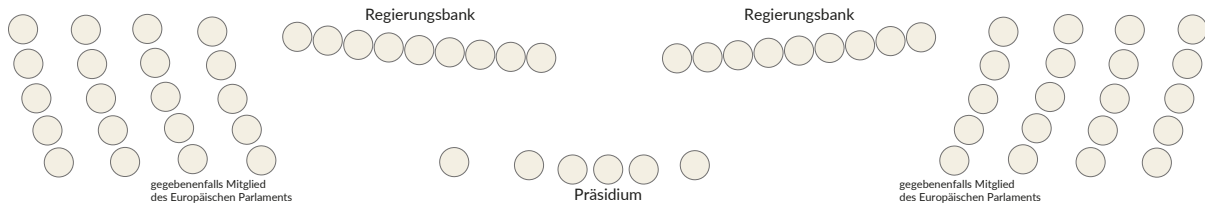
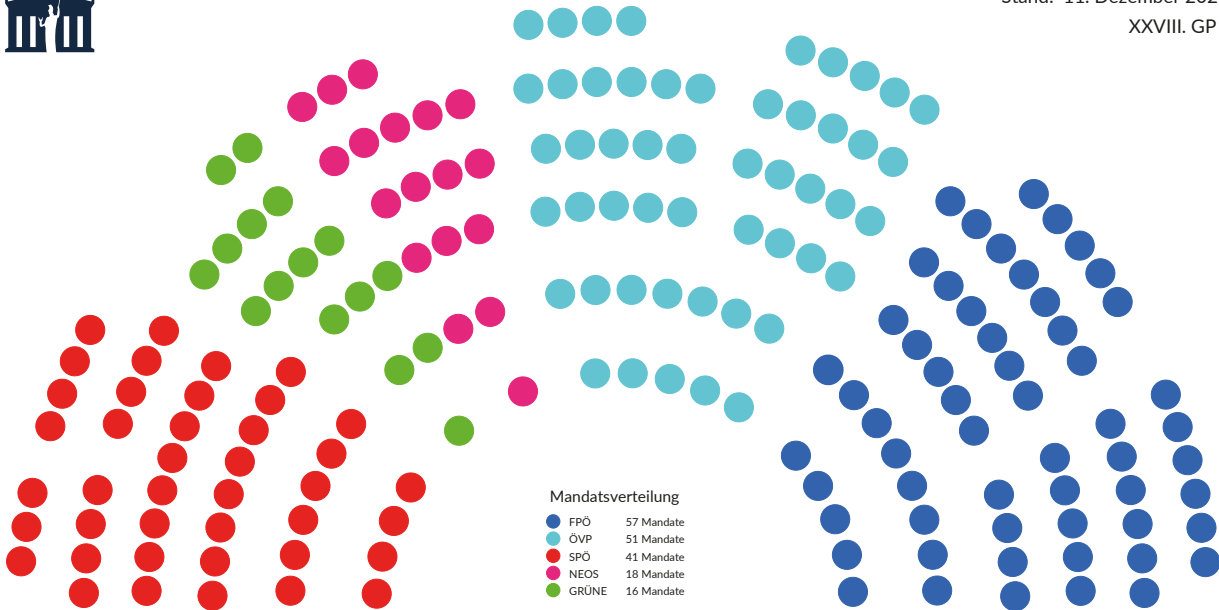
MATERIAL 2

Positionen der Parlamentsparteien: zusätzliche Aufgabe

Mandatsverteilung im Nationalrat



Stand: 11. Dezember 2024
XXVIII. GP 3



Quelle: https://www.parlament.gv.at/dokument/unterlagen/NR-Sitzplan_NEU_2023_ohne_Namen.pdf (13.01.2025)